

CARGO: INSTRUTOR MUSICAL

INSTRUÇÕES AO CANDIDATO

- **Durante a realização da prova não será permitido ao candidato, sob pena de exclusão do Processo Seletivo:**
 - a) Qualquer espécie de consulta bibliográfica, utilização de livros, manuais ou anotações;
 - b) Comunicação entre candidatos;**
 - c) Uso de máquina calculadora;
 - d) Uso de relógio de qualquer tipo;
 - e) Agendas eletrônicas, telefones celulares, smartphones, MP3, notebook, palmtop, tablet, BIP, walkman, gravador ou qualquer outro receptor ou transmissor;
 - f) Uso de óculos escuros, bonés, protetores auriculares e outros acessórios similares;
 - g) Perturbar de qualquer modo a execução dos trabalhos;
- Todas as respostas do Caderno de Prova deverão ser transportadas para o Cartão Resposta;
- Não serão computadas as questões não assinaladas ou que contenham mais de uma resposta, ementa ou rasura;
- O quadrado da letra escolhida deve ser pintado de forma a completar todo o quadrado. Exemplo:

1	■	B	C	D	E
2	A	B	■	D	E
- Para a realização da Prova Escrita, o candidato deverá utilizar apenas caneta esferográfica, de tinta azul ou preta;
- Após a realização da prova, o candidato deverá afastar-se do local;
- Ao terminar a prova, o candidato entregará ao fiscal o Caderno de Prova e o Cartão Resposta devidamente **preenchido e assinado**;
- Os 03 últimos candidatos permanecerão até o último concluir, os quais assinarão a ata de encerramento, juntamente com os fiscais, efetuarão a conferência dos Cartões-Resposta, cujas irregularidades serão apontadas na referida ata, e assinarão o lacre dos envelopes em que forem guardados os Cartões-Resposta;
- A Prova escrita terá início às 08h00min com término às 11h00min. A duração mínima para realização da prova é de 30 (trinta) minutos, com tempo máximo de 03h00 (três horas). A Prova será composta por questões de múltipla escolha, sendo cada questão composta de 05 alternativas (a, b, c, d, e), possuindo somente uma alternativa correta;

- O Caderno de Provas será composto:

CONTEÚDO	Nº DE QUESTÕES
Língua Portuguesa	04 (quatro)
Raciocínio Lógico (Matemática)	04 (quatro)
Conhecimentos Gerais/Atualidades	02 (dois)
Conhecimentos na Área de Educação	05 (cinco)
Conhecimentos Específicos	05 (cinco)
Total de Questões	20 (vinte)

- Verifique se o Caderno de Provas está completo, sem falhas de impressão e se a quantidade de questões está correta;
- Você deverá transcrever as respostas das questões para o Cartão-Resposta, que será o **único documento válido para a correção das provas.**
- **O preenchimento do Cartão Resposta é de inteira responsabilidade do candidato e não será substituído em caso de erro do candidato.**

BOA PROVA!

CADERNO DE PROVA

LINGUA PORTUGUESA

Atenção! Este texto subsidiará as questões 1 a 4.

Furto de flor – Carlos Drummond de Andrade

Furtei uma flor daquele jardim. O porteiro do edifício cochilava, e eu furtei a flor.

Trouxe-a para casa e coloquei-a no copo com água. Logo senti que ela não estava feliz. O copo destina-se a beber, e flor não é para ser bebida.

Passei-a para o vaso, e notei que ela me agradecia, revelando melhor sua delicada composição. Quantas novidades há numa flor, se a contemplarmos bem.

Sendo autor do furto, eu assumira a obrigação de conservá-la. Renovei a água do vaso, mas a flor empalidecia. Temi por sua vida. Não adiantava restituí-la no jardim. Nem apelar para o médico de flores. Eu a furtara, eu a via morrer.

Já murcha, e com a cor particular da morte, peguei-a docemente e fui depositá-la no jardim onde desabrochara. O porteiro estava atento e repreendeu-me.

– Que ideia a sua, vir jogar lixo de sua casa neste jardim!

Carlos Drummond de Andrade. Contos plausíveis. Rio de Janeiro, José Olympio, 1985. p. 80.

1 - O autor do texto utiliza-se do recurso linguístico de substituição de vocábulos por elementos equivalentes visando a coesão e estética textual. Podemos observar, por meio das palavras em destaque, a referida estratégia de escrita.

“Trouxe-a para casa e coloquei-a no copo com água. Logo senti que ela não estava feliz. O copo destina-se a beber, e flor não é para ser bebida.

Passei-a para o vaso, e notei que ela me agradecia, revelando melhor sua delicada composição. Quantas novidades há numa flor, se a contemplarmos bem.

Quanto as palavras em destaque é possível classificá-las como:

- a) Substantivos
- b) Adjetivos
- c) Pronomes
- d) Advérbios
- e) Interjeições

2 - “Renovei a água do vaso”. Passando o excerto para a voz passiva temos:

- a) Renovarei a água do vaso.
- b) A água do vaso renovarei.
- c) A água do vaso foi renovada.
- d) A água do vaso será renovada.
- e) Renovar-se-á a água do vaso.

3 - Observe a palavra em destaque: “Que **ideia** a sua, vir jogar lixo de sua casa neste jardim!”. A palavra destacada está em consonância com as novas regras ortográficas. Assim como o vocábulo “ideia” outros também sofreram alterações após o Acordo Ortográfico obrigatório, no Brasil, a partir de 2016. Assinale a alternativa na qual TODOS os vocábulos estão CORRETAMENTE grafados seguindo as regras vigentes.

- a) plateia – herói – enjojo – aeroespacial – micro-ondas
- b) plebeia – heróico – enjôo – agroindustrial – micro-ondas
- c) azaleia – paranóico – lêem – anteontem – microndas
- d) assembleia – tramóia – voo – auto-escola – micro-ondas
- e) colmeia – odisséia – vôo – autoestrada – micro-ondas

4 - Em: “Furtei uma flor daquele jardim” e “Que ideia a sua, vir jogar lixo de sua casa nesto jardim!”

Os vocábulos em destaque classificam-se como pronomes e demonstram a posição de um elemento qualquer em relação às pessoas do discurso, situando-os no espaço, no tempo ou no próprio discurso.

Em relação aos vocábulos é CORRETO informar:

- a) Podem ser substituídos por deste e nesse, respectivamente, sem alteração de sentido.
- b) O primeiro vocábulo indica proximidade de quem fala ou escreve e o segundo indica posição distante dos dois interlocutores.
- c) Apenas o segundo vocábulo pode ser substituído por nesse sem alteração de sentido.
- d) Os pronomes demonstrativos servem apenas para fazer referência ao que será dito no discurso e jamais retomam uma informação já repassada por isso estão antes do vocábulo jardim.
- e) O primeiro vocábulo indica posição distante dos dois interlocutores e o segundo indica proximidade de quem fala ou escreve.

RACIOCÍNIO LÓGICO (MATEMÁTICA)

5 - Maria foi ao supermercado e comprou 7 chocolates a R\$ 4,00 cada um, 8 caixinhas de gelatina a R\$ 1,20 cada uma e 5 caixinhas de creme de leite a R\$ 1,80 cada uma. O preço médio dos produtos adquiridos foi de:

- a) R\$ 2,42
- b) R\$ 2,38
- c) R\$ 2,36
- d) R\$ 2,33
- e) R\$ 2,30

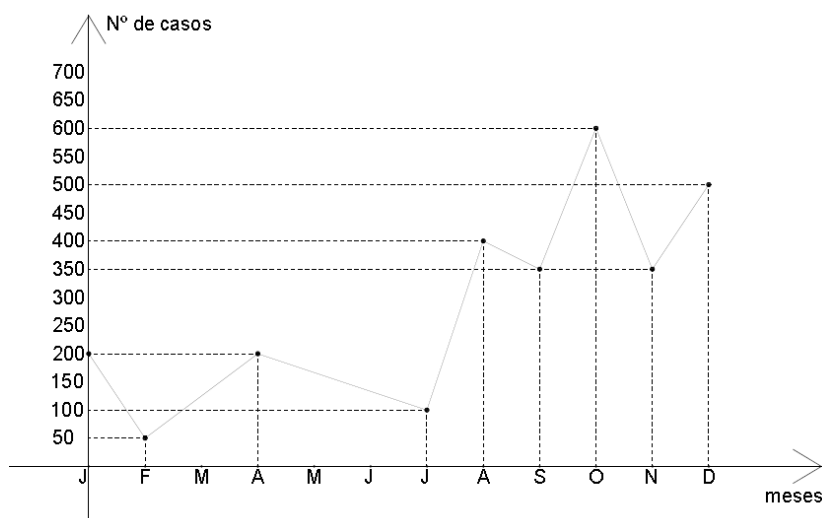
6 - A reciclagem traz benefícios a diversos setores da sociedade, contribui na preservação do meio ambiente, movimenta a economia, gera empregos e renda. Pesquisas demonstram que no Brasil são recicladas cerca de 97% das latas de alumínio comercializadas. Em uma usina de reciclagem em média são necessárias 150 latas para se obter 2 quilogramas de alumínio. Para se obter 1000 quilogramas de alumínio são necessárias:

- a) 150.000 latas
- b) 75.000 latas
- c) 300.000 latas
- d) 95.000 latas
- e) 105.000 latas

7 - Os números x , 36 e 45 são diretamente proporcionais aos números 84, y e 60. O valor da expressão $x - y$ é igual a:

- a) 63
- b) 37
- c) 35
- d) 25
- e) 15

8 - Em determinada região do país foi pesquisado, durante um ano, o número de casos de certa doença, encontrando-se os dados representados no gráfico abaixo:



Através da análise do gráfico é **CORRETO** afirmar que:

- a) O número total de registros no 3º trimestre é de 850 casos;
- b) A maior diferença do número de casos registrados ocorreu entre os meses de setembro e outubro;
- c) O número total de registros no 1º semestre é de 450 casos;
- d) O número de casos foi mínimo em janeiro;
- e) O número de casos foi máximo no mês de dezembro.

CONHECIMENTOS GERAIS/ATUALIDADES

9 - Analise as notícias veiculadas em mídias nacionais e assinale V (verdadeiro) ou F (falso) para as informações apresentadas e em seguida assinale a alternativa que corrobora com as respostas dadas.

() Brasil tem gravidez na adolescência acima da média latino-americana, diz OMS. A cada mil adolescentes brasileiras entre 15 e 19 anos, 68,4 ficaram grávidas e tiveram seus bebês, diz relatório da Organização Mundial da Saúde. Fonte: <http://g1.globo.com/ciencia-e-saude/>

() Santa Catarina é o estado líder em doação de órgãos no país: são 40,8 doadores por milhão de habitantes, quando a média nacional é de 16,6 doadores por milhão de habitantes, segundo a Associação Brasileira de Transplante de Órgãos (Abto). O estado investiu no treinamento de funcionários em hospitais para apoiar as famílias em luto e aumentar as doações. <https://g1.globo.com/sc/santa-catarina/noticia/sc>

() A imagem do rosto da atriz Tônia Carrero, morta na noite de sábado (3), vítima de um infarto, aos 95 anos, foi reproduzida nas moedas de cruzeiro na década de 1960, e permaneceu em circulação por muitos anos. Fonte: <http://r7.com>.

() Brasil passa a exportar casos de febre amarela; turistas chileno e suíço morrem. Turistas que estiveram no Brasil este ano contraíram a doença; suíço que se negou a tomar a vacina morreu em hospital em Zurique no dia 28 de fevereiro. <http://g1.globo.com/ciencia-e-saude/>

() A Índia deve tornar-se a terceira maior economia do mundo na próxima década, dizem economistas. Fonte: <https://www.terra.com.br/economia/quais-sao-as-cinco-economias-que-mais-devem-crescer-em-2018.6953b85c27990bd8168c1011eb866b51s6bnvsl8.html>

a) V – V – V – V – F

b) V – V – V – V – V

c) F – F – V – V – F

d) V – V – V – F – V

e) V – V – V – F – F

10 - Áreas de conservação desmatadas na Amazônia estão perdendo proteção do governo, aponta estudo nos EUA:

Em vez de receberem mais fiscalização, as unidades de conservação ambiental que se tornaram alvo de desmatamento ilegal na Amazônia têm preferência para perderem proteções estaduais e federais no Brasil, aponta um estudo inédito recém-publicado nos Estados Unidos.

As conclusões do levantamento se baseiam em perdas de áreas protegidas durante duas ondas recentes de mudanças em regras ambientais no estado em questão - em 2010 e 2014.

Em 2010, segundo o estudo, 10 unidades de conservação da floresta amazônica no Estado foram extintas, abrindo espaço para a construção das usinas hidrelétricas de Jirau e Santo Antônio. As perdas em áreas até então protegidas chegaram a quase 8 mil quilômetros quadrados, ou cinco vezes a área total da cidade de São Paulo.

Quatro anos depois, outras 20 áreas de conservação foram reduzidas ou extintas para dar lugar, principalmente, à criação de gado - uma redução de 19 mil quilômetros quadrados, ou mais de 12 vezes a capital paulista.

Segundo Mascia (diretor de ciências sociais do instituto Conservation International), as antigas áreas de conservação tinham em comum uma "gestão ineficaz" de proteção, o que favorece o corte ilegal de madeira. "Todas as áreas rebaixadas ou extintas já haviam sido desmatadas", diz.

A notícia veiculada em diversos periódicos nacionais avaliou 62 áreas protegidas _____, um dos três estados com maiores índices históricos de desmatamento na Amazônia.

Fonte: <https://www.terra.com.br/noticias/ciencia/sustentabilidade/meio-ambiente/areas-de-conservacao-desmatadas-na-amazonia-estao-perdendo-protecao-do-governo-aponta-estudo-nos-eua,e0c432b7f94891a38a7f9f62dca2ec12ppd84zjc.html>

- a) em Cuiabá
- b) em Roraima
- c) no Acre
- d) em Rondônia
- e) no Pará

CONHECIMENTOS NA ÁREA DE EDUCAÇÃO

11 - Considerando a Lei Federal nº 9394, de 20 de dezembro de 1996 e alterações que estabelece as Diretrizes e Bases da Educação Nacional, o ensino da arte, especialmente em suas expressões regionais, constituirá componente curricular obrigatório da educação básica. Segundo a referida Lei, as linguagens que constituem o componente curricular de arte são:

I- Artes visuais;

II- Dança;

III- Música;

IV- Teatro;

V- Fotografia.

As assertivas CORRETAS são:

a) As alternativas I e III, apenas.

b) As alternativas I; III e IV, apenas.

c) As alternativas I e IV, apenas.

d) As alternativas I; II; III e IV, apenas.

e) As alternativas I; II; III; IV e V.

12 - O Estatuto da Criança e do Adolescente- ECA, Lei nº 8069/90, com vistas a cumprir os preceitos constitucionais assegura à criança e ao adolescente preferencialmente uma educação voltada ao integral desenvolvimento da pessoa, com prática para a cidadania de forma clara e objetiva e capacitação para o trabalho, sempre preconizando o absoluto respeito aos direitos fundamentais das crianças e dos adolescentes. De acordo com o Estatuto da Criança e do Adolescente- ECA, Lei nº 8069/90, art. 53 a criança e o adolescente têm direito à educação, visando ao pleno desenvolvimento de sua pessoa, preparo para o exercício da cidadania e qualificação para o trabalho, assegurando-se-lhes:

I- igualdade de condições para o acesso e permanência na escola;

II- direito de ser respeitado por seus educadores;

III- direito de contestar critérios avaliativos, podendo recorrer às instâncias escolares superiores;

IV- repúdio as questões relacionadas à gênero;

V- direito de organização e participação em entidades estudantis;

VI- acesso à escola pública e gratuita próxima de sua residência.

Marque a alternativa **CORRETA**:

- a) Todos os itens estão corretos.
- b) Apenas I; III; IV; e VI estão corretos.
- c) Apenas I; II; III; V e VI estão corretos.
- d) Apenas I; IV; V e VI estão corretos.
- e) Apenas I; V e VI estão corretos.

13 - O direito subjetivo público à Educação tem guarida na Constituição Federal de 1988 nos art. 205 a 214 devendo ser ministrado segundo os princípios expressos, dentre os quais, a igualdade de condições para o acesso à escola. Levando em consideração a redação dada pelos artigos 205 a 214 da Constituição Federal de 1988 e alterações, assinale a alternativa que apresenta incoerência com o disposto no referido documento.

- a) A lei estabelecerá o plano nacional de educação, de duração bianual, com o objetivo de articular o sistema nacional de educação em regime de colaboração e definir diretrizes, objetivos, metas e estratégias de implementação para assegurar a manutenção e desenvolvimento do ensino em seus diversos níveis, etapas e modalidades por meio de ações integradas dos poderes públicos das diferentes esferas federativas.
- b) As cotas estaduais e municipais da arrecadação da contribuição social do salário-educação serão distribuídas proporcionalmente ao número de alunos matriculados na educação básica nas respectivas redes públicas de ensino.
- c) Serão fixados conteúdos mínimos para o ensino fundamental, de maneira a assegurar formação básica comum e respeito aos valores culturais e artísticos, nacionais e regionais.
- d) Os Municípios atuarão prioritariamente no ensino fundamental e na educação infantil.
- e) O ensino religioso, de matrícula facultativa, constituirá disciplina dos horários normais das escolas públicas de ensino fundamental.

14 - Questões relacionadas à ética se apresentam corriqueiramente no ambiente escolar pelo fato de confrontarem valores e princípios de diferentes origens. Acerca do papel do professor nas relações éticas, assinale a alternativa correta.

- a) Em situações de conflitos éticos em sala de aula, cabe ao professor comunicar à direção e levar os alunos para que resolvam junto aos órgãos competentes.
- b) O professor deve impor os seus valores em sala de aula, fazendo com que todos os alunos sigam aquilo no que ele acredita.
- c) Cabe ao professor interferir nos conflitos que se apresentarem em sala de aula, transformando o conflito em situação de aprendizagem, ouvindo as diferentes opiniões e confrontando-as por meio do diálogo.
- d) As situações de conflitos éticos não devem ser trabalhadas em sala de aula, pois cada família educa seus filhos de acordo com os valores que acha importantes.
- e) A escola pública deve definir que tipos de valores são os mais importantes e aqueles que não concordarem com esses valores devem procurar outra instituição de ensino para estudar.

15 - De acordo com a Lei de Diretrizes e Bases da Educação (Lei n. 9.394/96), as instituições públicas que ofertam a Educação Básica devem ser administradas com base no princípio da Gestão Democrática. A Gestão Democrática é uma forma de gerir uma instituição de maneira que possibilite a participação, transparência e democracia. A respeito da gestão democrática, assinale a opção CORRETA.

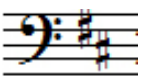

- a) A gestão democrática é instaurada no ambiente escolar de forma rápida e eficiente, sem limitações e obstáculos.
- b) Nas formas de gestão democrática, as discussões são coletivas, mas as decisões são tomadas pelo diretor da escola.
- c) Nas decisões sobre as questões pedagógicas somente as opiniões dos docentes devem ser levadas em consideração.
- d) A gestão democrática engloba as ações dos responsáveis pela instituição escolar, desde a divisão do trabalho até as tomadas de decisão.

e) Para uma gestão democrática de uma escola basta a eleição direta do diretor por meio do voto de seus pares.

CONHECIMENTOS ESPECÍFICOS

INSTRUTOR MUSICAL

16 - Observe as duas armaduras de clave e indique a alternativa que define corretamente os tons que

estas podem significar, respectivamente: 1)  2) 

- a) 1 - Mi maior ou dó sustenido menor; 2 – Ré maior ou si menor.
- b) 1 – Si maior ou sol sustenido menor; 2 – Mi maior ou dó sustenido menor.
- c) 1 – Lá menor ou Dó maior; 2 – Ré maior ou si menor.
- d) 1 – Ré maior ou Si menor; 2 – Lá maior ou fá sustenido menor.
- e) 1 – Si menor ou Ré maior; 1 – Dó maior e lá menor.

17 - O sistema de cifragem musical foi concebido para que fosse uma linguagem musical auxiliar, mais acessível e compreendida independentemente do idioma falado pelos músicos. Defina a alternativa que não representa corretamente uma sequência lógica de organização do alfabeto musical neste sistema:

- a) C, D, E, F.
- b) E, F, G, H.
- c) A, B, C, D.
- d) G, A, B, C.
- e) B, C, D, E.

18 - Escalas musicais são sequências ordenadas de notas, repetidas em ciclo, obedecendo uma sequência bem definida de intervalos. Observe as seguinte partituras:




Os intervalos que estes dois exemplos de escalas caracterizam são:

- a) Menor natural e menor harmônica.
- b) Menor melódica e menor harmônica.
- c) Menor harmônica e menor natural.
- d) Menor harmônica e menor melódica.
- e) Menor melódica e menor natural.

19 - Uma característica particular das escalas relativas é que estas possuem notas idênticas entre si, porém, com a posição e modo (maior ou menor) diferentes. Considerando a escala de si maior, aponte a alternativa que corretamente apresenta sua escala relativa:

- a) Lá sustenido menor.
- b) Sol menor.
- c) Lá sustenido menor.
- d) Sol sustenido menor.
- e) Mi menor.

20 - De acordo com os preceitos da escrita de partitura musical, observe a figura abaixo e indique a

alternativa que define corretamente o que significa o sinal ao lado da clave de sol: 

- a) Compasso quaternário composto.
- b) Compasso ternário simples.
- c) Compasso $\frac{4}{4}$.
- d) Dó maior.
- e) Dó menor.